


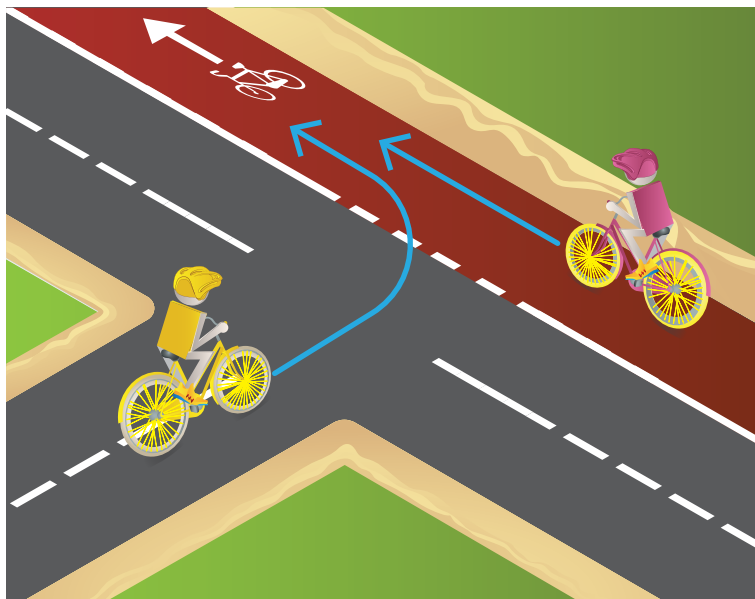
БЕЗОПАСНОСТЬ ДОРОЖНОГО ДВИЖЕНИЯ

1-е задание. Как должен поступить водитель велосипеда?



- A) продолжать движение по обочине
- B) продолжать движение по проезжей части
- C) двигаться друг за другом с другими велосипедистами, объезжая внимательно препятствие и не выезжая с велодорожки


2-е задание. У кого из велосипедистов имеется преимущество?



- A) у велосипедиста, который передвигается по проезжей части
- B) у велосипедиста, который передвигается по велодорожке

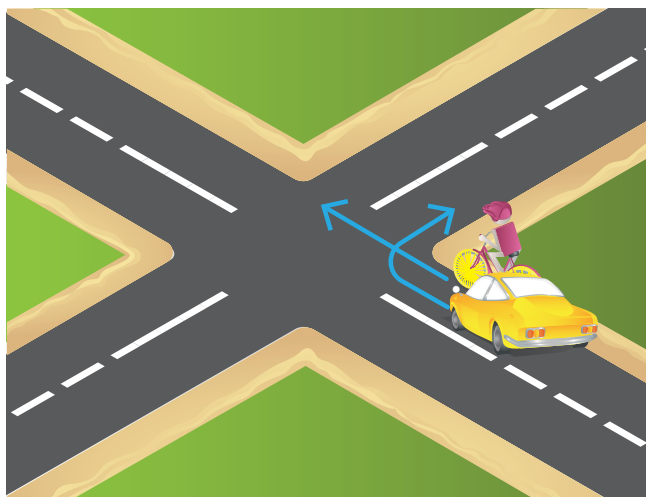
БЕЗОПАСНОСТЬ ДОРОЖНОГО ДВИЖЕНИЯ

3-е задание. Как должен поступить водитель велосипеда?



- A) должен остановиться и ждать, когда проедет автомашина
- B) должен двигаться дальше не останавливаясь
- C) должен снизить скорость, чтобы убедиться, что водитель автомашины его заметил, а затем продолжать движение


7-е задание. Как должен поступить водитель велосипеда?



- A) должен осмотреться и оценить ситуацию и только потом очень внимательно продолжать движение
- B) должен двигаться не осматриваясь, так как имеет преимущество
- C) должен ждать, пока не проедет автомашина

БЕЗОПАСНОСТЬ ДОРОЖНОГО ДВИЖЕНИЯ

8-е задание. Как должен поступить водитель велосипеда?
(Необходимо учитывать, что для грузовой машины необходим большой радиус разворота)



- A) должен продолжать движение
- B) должен продолжать движение по обочине
- C) должен снизить скорость, дождаться, пока грузовая машина закончит маневр, и затем продолжить движение