


CEĻAZĪMES UN APZĪMĒJUMI

CEĻAZĪMJU FORMAS

1. uzdevums.



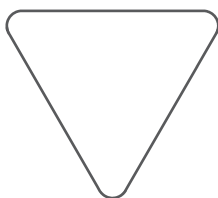
A




B



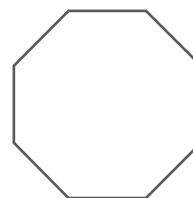
C



D



E



F

► Ko rāda ceļazīmju forma?




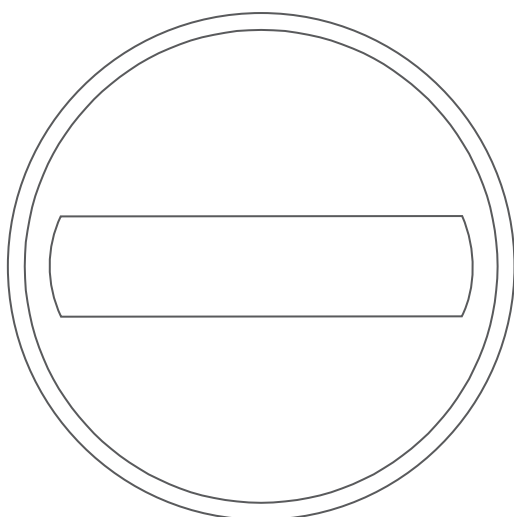

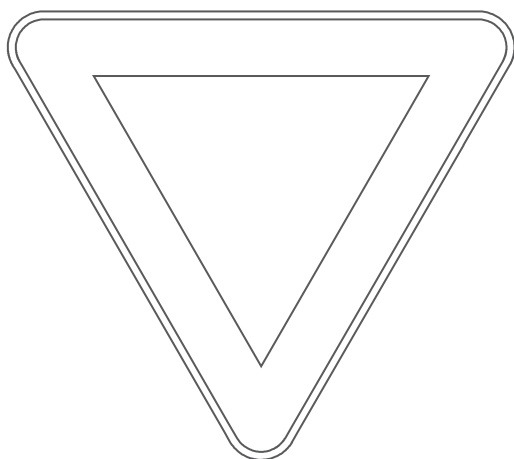
► Kā sauc ceļazīmi F? Kāpēc tai ir 8-stūra forma?

► Kuras formas zīmes pieder vairākām ceļazīmju grupām?

CEĻAZĪMES UN APZĪMĒJUMI

CEĻAZĪMJU KRĀSAS UN FORMAS

2. uzdevums. Izkrāso ceļazīmes!



CEĻAZĪMES UN APZĪMĒJUMI

CEĻAZĪMJU NOZĪME

3. uzdevums. Par ko informē katra ceļazīme?

1.




A

B

C


2.



A

B

3.



A

B

C



D

CEĻAZĪMES UN APZĪMĒJUMI

CEĻAZĪMJU NOZĪME

3. uzdevums. Par ko informē katra ceļazīme?

4.





A

B

C

5.



A

B

C

D

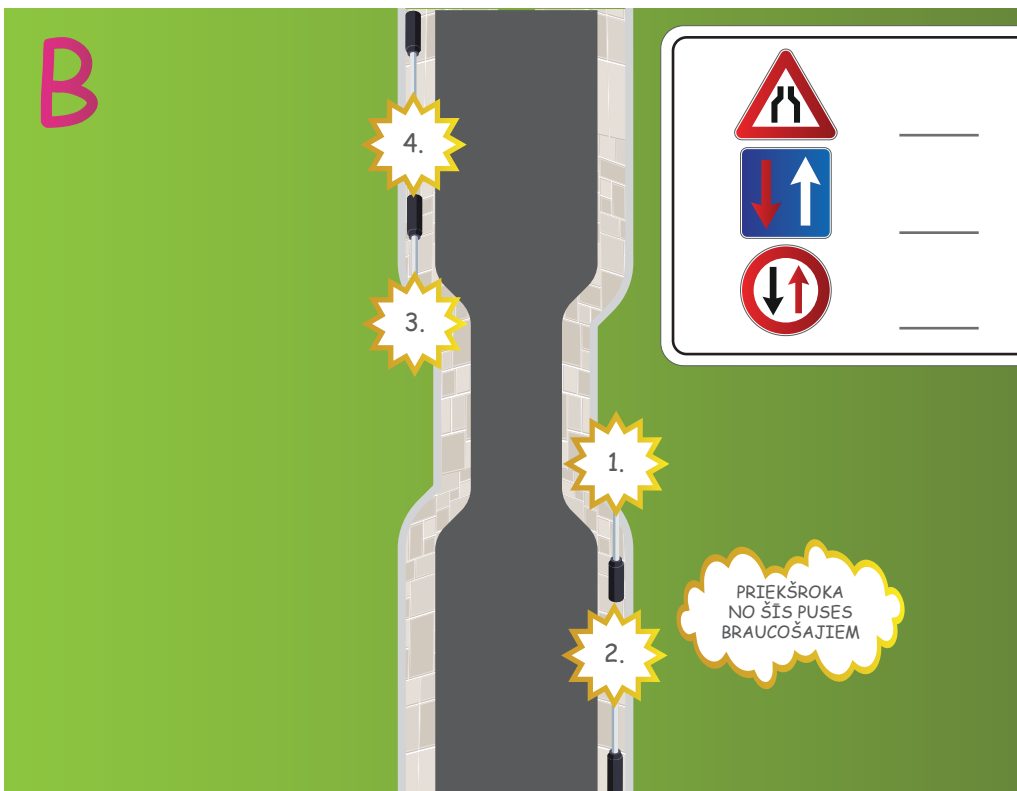
CEĻAZĪMES UN APZĪMĒJUMI

CEĻAZĪMES KRUSTOJUMOS UN CITĀS SITUĀCIJĀS

4. uzdevums. Uzraksti pie ceļazīmes numuru, kurā punktā jāatrodas katrai ceļazīmei attēlotajā situācijā!



	_____	_____
	_____	_____
	_____	_____
	_____	_____



	_____	_____
	_____	_____
	_____	_____

PRIEKŠROKA
NO ŠĪS PUSES
BRAUCOŠAJIEM